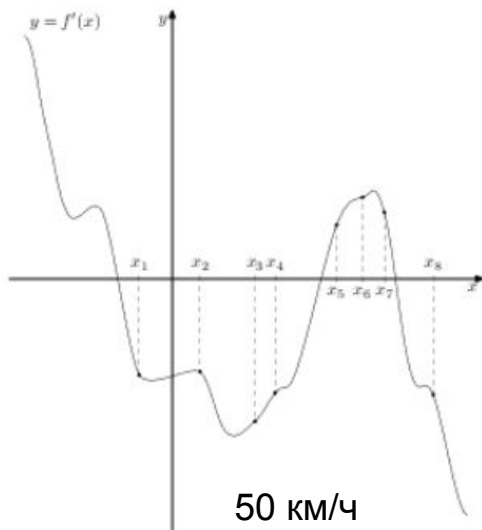
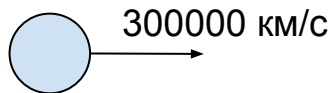



На рисунке изображён график $y = f'(x)$ — производной функции $f(x)$. На оси абсцисс отмечено восемь точек: $x_1, x_2, x_3, \dots, x_8$. Сколько из этих точек лежит на промежутках убывания функции $f(x)$?

5



50 км/ч



В начале
был свет

