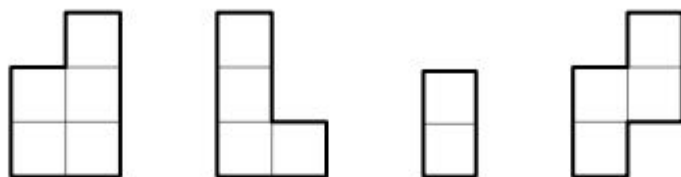




6. (1 балл) У Леша есть четыре фигурки, вырезанные из бумаги. Каждая из них с одной стороны белая, а с другой — серая. На рисунке фигуры лежат белыми сторонами вверх.




Какие из пяти прямоугольников, изображенных на рисунке, можно сложить из этих фигур? В ответе укажите буквы, соответствующие прямоугольникам, которые Леша может сложить.




(a)




(b)



(c)



(d)



(e)