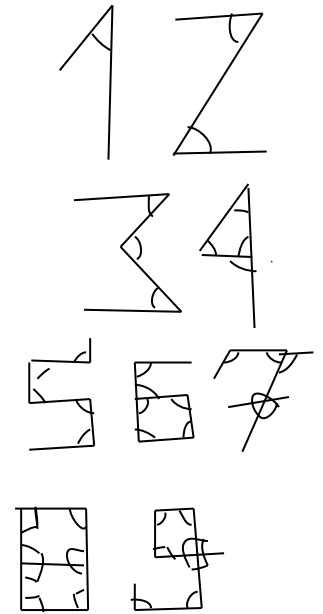
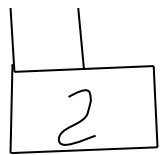
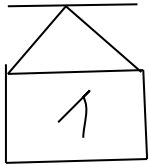



Угадайте закономерность форм фигурок рисунка. Какую фигурку надо поставить следующей? А после неё?



Угадайте закономерность форм фигурок рисунка. Какую фигурку надо поставить следующей? А после неё?

