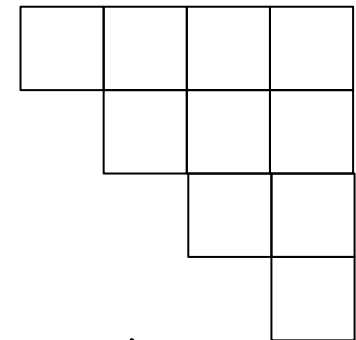
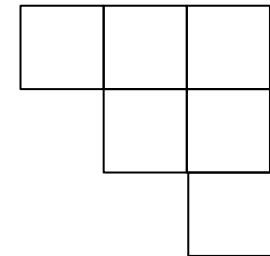
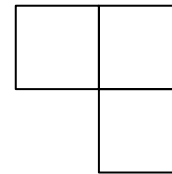



Из квадрата 7x7 вырезали одну клетку, а оставшуюся часть разрезали на **одинаковые** лесенки. Как это сделать, получив наименьшее количество лесенок? Объясните, почему нельзя обойтись меньшим числом лесенок. (Лесенкой называется фигура из всех клеток некоторого квадрата, лежащих по одну сторону от его диагонали).



10