

**11** Установите соответствие между функциями и их графиками.

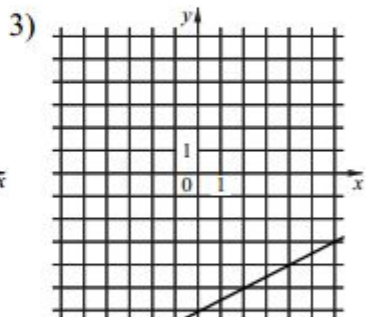
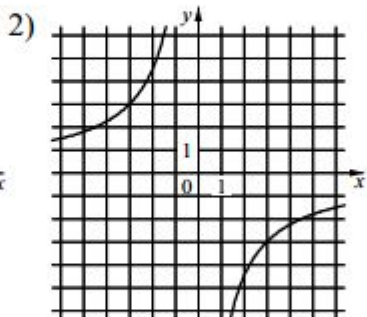
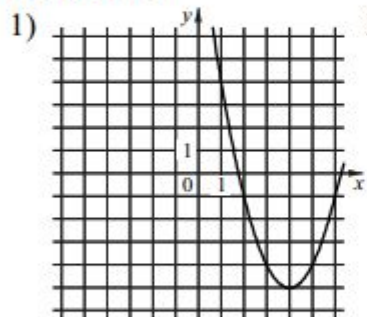
ФУНКЦИИ

А)  $y = \frac{1}{2}x - 6$

Б)  $y = x^2 - 8x + 11$

В)  $y = -\frac{9}{x}$

ГРАФИКИ



В таблице под каждой буквой укажите соответствующий номер.

Ответ:

А	Б	В