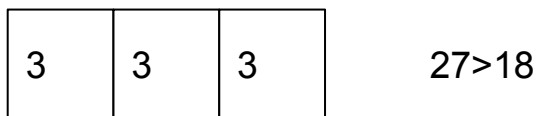
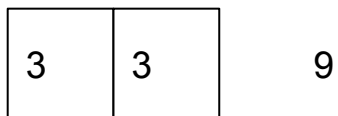
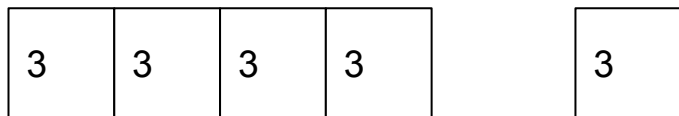


Световое табло состоит из лампочек. Каждая лампочка может находиться в одном из трех состояний («включено», «выключено» или «мигает»). Какое наименьшее количество лампочек должно находиться на табло, чтобы с его помощью можно было передать 18 различных сигналов?



Ответ: 3 позиции

“кот”, на 1-ом месте любая из 3-х букв, на 2-ом месте любая из 3-х букв

